

Vārds \_\_\_\_\_

Uzvārds \_\_\_\_\_

Skola \_\_\_\_\_ Klase \_\_\_\_\_

*Uzmanīgi izlasi uzdevumus! Uzraksti ne tikai atbildi, bet arī savu spriedumu gaitu, veiktās darbības un pārveidojumus! 1.-4. uzdevumā apvelc ar aplīti vienu atbildi, kura tavuprāt ir pareizā.*

+2/-1 punkti

1. Aprēķini!

$$10 \cdot 11 + 10 - 11 \cdot 10$$

A 10                      B 11                      C 100                      D 1090                      E 1990

+3/-1 punkti

2. Anna un Zane 15.decembrī satikās slidotavā. Anna uz slidotavu nāk katru trešo dienu, bet Zane – katru piekto dienu. Kad nākamreiz atkal abas meitenes satiksies slidotavā, ja viņas slidotavā ierodas vienā un tajā pašā laikā?

A 18. decembrī                      B 20. decembrī                      C 25. decembrī                      D 29. decembrī                      E 30. decembrī

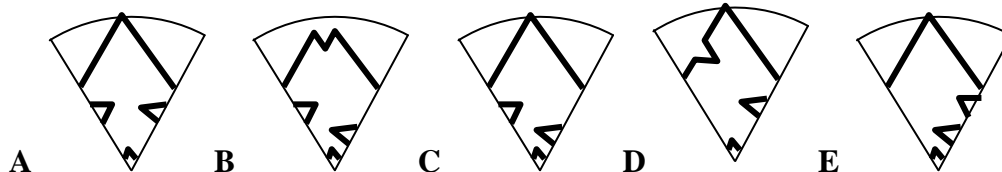

+4/-1 punkti

3. Ar kādu ciparu var beigties divu viens otram sekojošu nepāra skaitļu reizinājums?

A tikai 3                      B tikai 3, 5 vai 9                      C tikai 1, 3, 5, 7 vai 9                      D ar jebkuru ciparu                      E tikai 3, 5 vai 2

+3/-1 punkti

4. Gatavojoties Ziemassvētkiem, bērni no papīra izgriezā sniegpārslīņas – viņi salocīja papīra lapu 6 daļās, izgriezā rakstu un atlocīja papīra lapu. Kurā zīmējumā parādīts raksts, kas jāizgriež, lai iegūtu attēlā redzamo sniegpārslīņu?



4 punkti

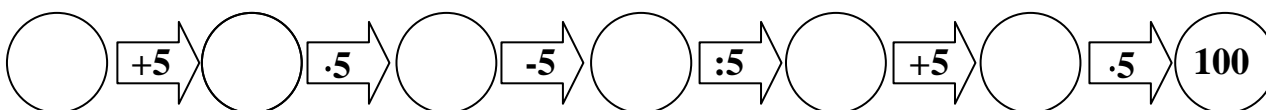
5. Salīdzini! (Aplīšos ieraksti „<”, „=” vai „>”.)

$2010 \text{ dm} \bigcirc 1 \text{ km} : 5$

$600 \text{ s} \bigcirc 305 \text{ min.} - 3 \text{ h}$

3 punkti

6. Aplīšos ieraksti skaitļus tā, lai secīgi izpildot bultiņās norādītās darbības, iegūtu skaitli 100!



5 punkti

7. No grāmatas izkrikušas vairākas pēc kārtas ņemtas lapas. Izkriušā fragmenta pirmās lappuses numurs 415, bet pēdējās izkriušās lappuses numurs uzrakstāms tiem pašiem cipariem, bet citā secībā. Cik lapas ir izkriušajā fragmentā?

Atbilde: \_\_\_\_\_ lapas.

5 punkti

8. Zīmējumā redzamo figūru sadali trīs vienādās daļās (daļām jābūt vienādām pēc formas un laukuma). Dalījuma līnijām jāiet pa rūtiņu malām.

