

Vārds \_\_\_\_\_

Uzvārds \_\_\_\_\_

Skola \_\_\_\_\_ Klase \_\_\_\_\_

**Katram uzdevumam rakstiet ne tikai atbildi, bet arī risinājumu!**

6 punkti

1. Aprēķini un atbildi izsaki sekundēs!

$$\left(\frac{1}{4} \text{ no 1 stundas}\right) \cdot 2 + \left(\frac{1}{6} \text{ no 1 min.}\right) \cdot 12 - 22 \text{ min.} =$$

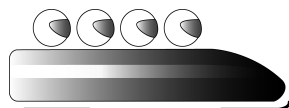
Atbilde: \_\_\_\_\_ sekundes

6 punkti

2. Viena no Latvijas bobsleja četrinieku ekipāžām ir Oskars Melbārdis, Helvijs Lūsis, Arvis Vilkaste un Jānis Strenga. Pirmais no tiem ir pilots, pārējie trīs ir stūmēji. Zināms, ka bobā pirmais sēž pilots.

Cik dažādos veidos treneris bobā varēja sasēdināt pārējos trīs stūmējus?

Uzraksti visus iespējamus variantus, stūmējus apzīmējot ar to vārdu pirmajiem burtiem: Helvijs Lūsis – H; Arvis Vilkaste – A; Jānis Strenga – J.

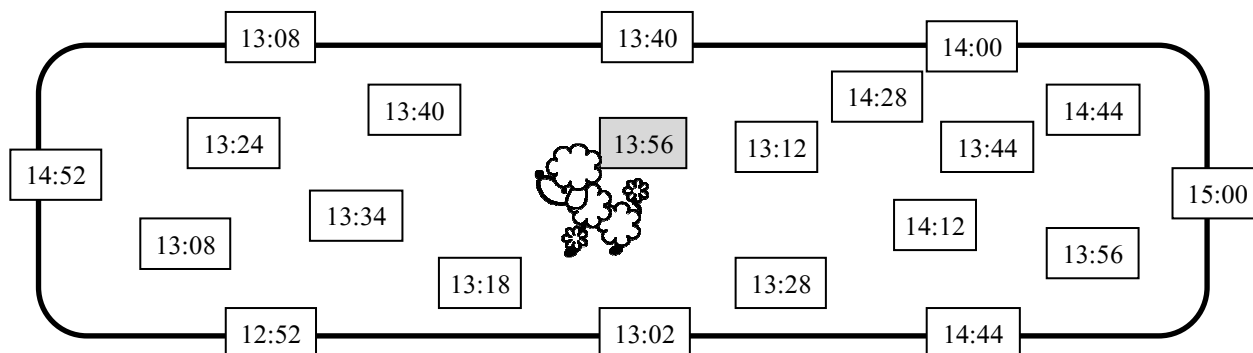


Atbilde: \_\_\_\_\_ dažādos veidos.

5 punkti


3. Pa vieniem no 8 vārtiem parkā ienāca sunītis. Sākot ar ieeju, ik pēc 16 minūtēm sunīša atrašanās vietā tika fiksēts laiks. Kamēr sunītis tika līdz parka vidum (iekrāsotais lauciņš), laiks tika uzņemts 5 reizes (ieskaitot sākumu un beigas).

Pa kuriem vārtiem sunītis ienāca parkā? Ar bultiņām norādi sunīša maršrutu!



4 punkti


4. Cik rūtiņu liels ir iekrāsotās figūras laukums? (*Padomā, kā figūras daļas varētu pārvietot, lai vieglāk noteikt laukumu!*)



*Atbilde:* Iekrāsotās figūras laukums ir \_\_\_\_\_ rūtiņas.

6 punkti

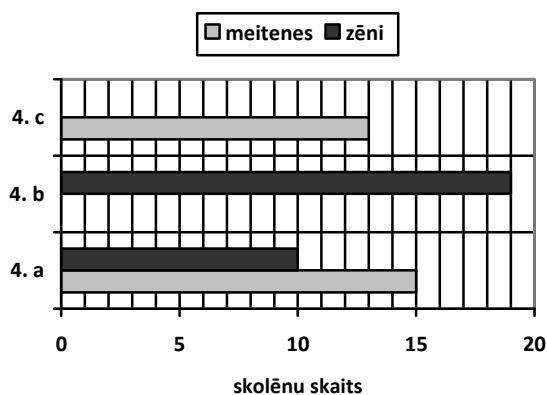
5. Pieci karavīri: Aigars, Māris, Juris, Sandris un Ivars, sastājās rindā pēc augumiem. Neviens no tiem nav vienādā garumā ar kādu no pārējiem. Zināms, ka Juris ir īsāks par Aigaru, Ivars ir garāks par Sandri, Aigars ir garāks par Ivaru, Juris ir īsāks par Ivaru, Aigars ir īsāks par Māri un Jurim nav vasaras raibumiņu. Zīmējumā zem katra karavīra pieraksti tā vārdu!



*Atbilde:* \_\_\_\_\_

7 punkti

6. Nolasi no diagrammas vajadzīgo informāciju un aizpildi tabulas tukšās rūtiņas!  
Izmantojot tabulā doto informāciju, attēlo diagrammā trūkstošo zēnu un meiteņu skaitu!  
Kurā no klasēm ir visvairāk zēnu? Un kurā visvairāk meiteņu? Kurā klasē ir vismazāk skolēnu?



	4. a	4. b	4. c
Meitenes		8	
Zēni			
Kopā			27

*Atbilde.* Visvairāk zēnu ir \_\_\_\_\_ klasē.  
Visvairāk meiteņu ir \_\_\_\_\_ klasē.  
Vismazāk skolēnu ir \_\_\_\_\_ klasē.